



**السند 1:**

تعرفت أسماء خلال مشاركتها في مصيف للكشافة التونسية على عدد كبير من الأصدقاء والصدقات في مختلف المدن والجهات ومن خلال أحاديثها معهم تبين لها كثير من الخصائص للسكان في بلدها الجميل .  
التعليمة 1 : أضع العلامة (X) أمام الاقتراح الصحيح :

1 مع

1 مع

3 مع

4 مع

1.5

1.5

3 مع

3 مع

3 مع

التعليمة 5 : أعلل بما يناسب:

4 مع

2



التعليمة 6 : أذكر ثلاثة حلول يمكن بها تثبيت السّكان ومقاومة الهجرة الدّاخلية (أحرّر فقرة لا تتجاوز 4 أسطر )

.....


.....

.....

.....

مع 1


السّند 2 : اهتمّت أسماء كذلك بأهمّ المميّزات الطّبيعية والفلاحيّة بالبلاد التّونسية وتعرّفت على أهمّ المشاكل والصّعوبات التي تعاني منها الفلاحة .  
التعليمة 7 : ألاحظ و أكتب في كلّ مفتاح معدّل التساقطات



مع 2


التعليمة 8 : أربط بما يناسب

- عوامل تاريخية \* \* توفير مواطن الشغل والمرافق الحياتيّة
- عوامل طبيعية \* \* تركّز التحصينات والحضارات
- عوامل اقتصادية \* \* وفرة السهول وكثرة الأمطار

التعليمة 9 : أصنّف المعلومات التّالية بالجدول بكتابة الأرقام

- 1 - إنتاج الحبوب في البلاد التّونسية في تذبذب من سنة إلى أخرى
- 2 - مردود زراعة الحبوب في الجنوب التّونسي هام
- 3 - المساحات المخصّصة للغراسات أوفر من مساحة الحبوب

مع 2


المعلومات الخاطئة	المعلومات الصحيحة

التعليمة 10 : تختصّ بعض الأقاليم في البلاد التّونسية بتخصّص في المنتج

الفلاحي .

أضبط في الخريطة مواقع أهم الغراسات .

عدد 1




**جدول إسناد الأعداد**

4		3			2			1			المحلي			
0		0			0			0			المتك			
1.5	1.5	3	2	1	1.5	1	0.5	3	3	2	1.5	1	0.5	المتك
2		4			2			4			المتك			
5		6	5	3	2.5	6	5.5	5	4.5	المتك				



السنة  
السادسة

## إصلاح اختبار الثلاثي الثاني المادة : جغرافيا



### السند 1:

- تعرفت أسماء خلال مشاركتها في مصيف للكشافة التونسية على عدد كبير من الأصدقاء والصدقات في مختلف المدن والجهات ومن خلال أحاديثها معهم تبين لها كثير من الخصائص للسكان في بلدها الجميل .
- التعليمة 1 :** أضع العلامة (X) أمام الاقتراح الصحيح :
- يبلغ سكان البلاد التونسية حاليا 9 ملايين .....
  - التوزع الجغرافي للسكان بالبلاد التونسية متوازن بين مختلف الجهات .....
  - تعتبر نسبة الولادات بالبلاد التونسية مرتفعة X
- التعليمة 2 :** أسمى ولاية
- كثافتها السكانية مرتفعة جدا . تونس
  - كثافتها السكانية مرتفعة سوسة
  - كثافتها السكانية ضعيفة جدا تطاوين
- التعليمة 3 :** أذكر ثلاثة أسباب للهجرة الداخلية
- البحث عن العمل أو الدراسة .
  - انتشار السهول ووجود البحر في السواحل .
  - عوامل تاريخية تتمثل في تركيز الحضارات القديمة على المناطق الساحلية .
- التعليمة 4 :** حسب رأيك للهجرة الداخلية : انعكاسات سلبية أم إيجابية ؟ ادمع موقفي .
- لهجرة انعكاسات سلبية على المناطق الداخلية من خلال تدهور الفلاحة أما المناطق السياحية فتعاني من الاكتظاظ والتلوث وتراجع الأراضي الفلاحية على حساب المناطق العمرانية .
- التعليمة 5 :** أعلل بما يناسب:
- تراجعت نسبة الأمية بالبلاد التونسية لتعميم التدريس ومجانيته .
  - تراجعت نسبة الولادات لاعتماد سياسة تحديد النسل .
  - ارتفع أمل الحياة عند الولادة لتحسن الظروف الاقتصادية والاجتماعية .

1 مع

1 مع

3 مع

4 مع

1.5

1.5

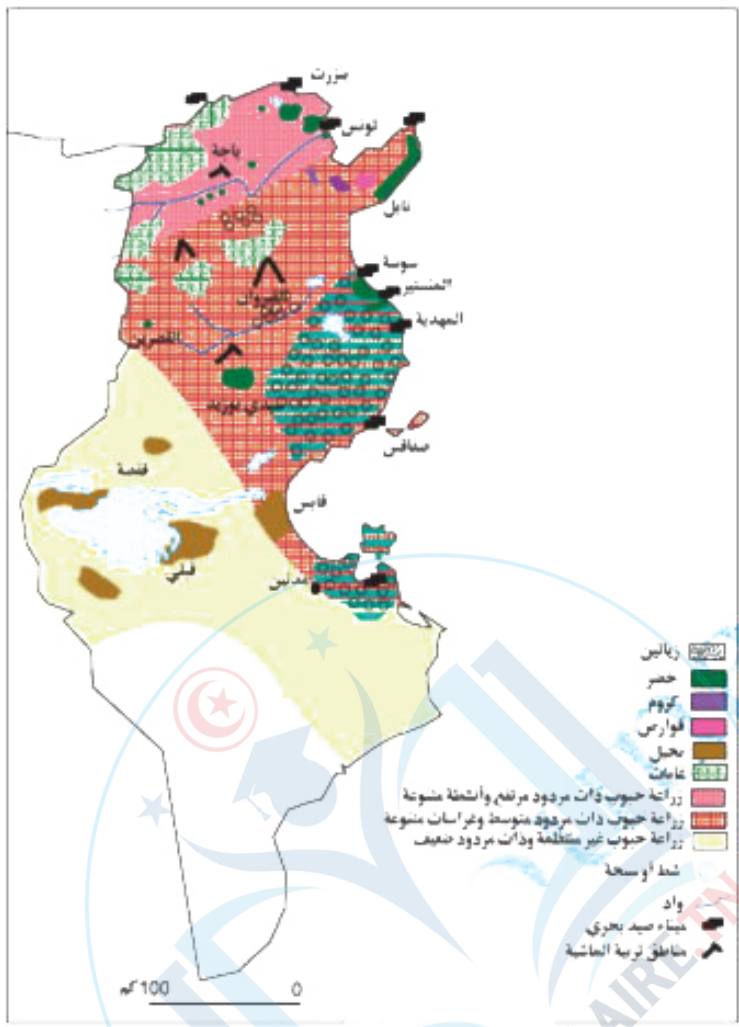
3 مع

3 مع

3 مع

4 مع

2



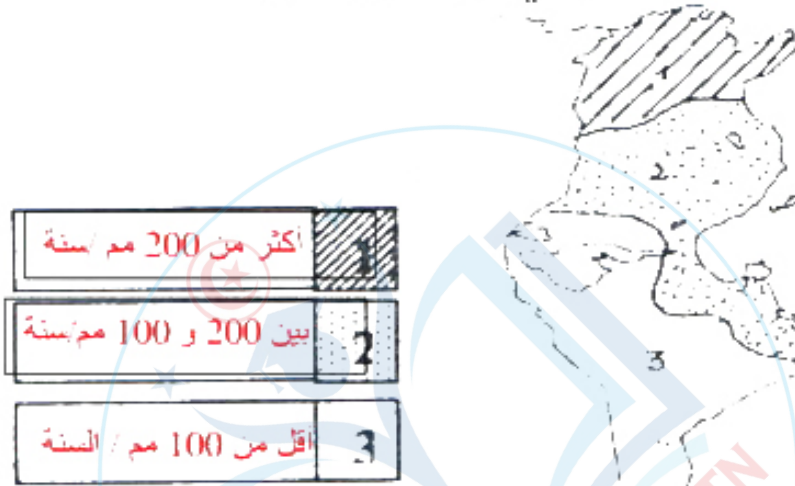
### جدول إسناد الأعداد

اسم المنطقة										عدد		مجموع		مجموع		مجموع		مجموع			
المنطقة الأولى										0	0	0	0	0	0	0	0	0	0		
1.5	1.5	3	2	1	1.5	1	0.5	0.5	3	2	1.5	1	0.5	0.5	0.5	0.5	0.5	0.5	0.5	0.5	
المنطقة الثانية										2	4	2		4		4		4			
المنطقة الثالثة										5	4	5	3	2.5	2	1.5	5	1.5	1.5	1.5	1.5

التعليمة 6 : أذكر ثلاثة حلول يمكن بها تثبيت السكان ومقاومة الهجرة الداخلية (أحزر فقرة لا تتجاوز 4 أسطر)

لمقاومة الهجرة الداخلية تحاول الدولة توفير تنمية شاملة بكامل تراب الجمهورية ومد شبكات الطرقات وتشجيع الاستثمار في المناطق الداخلية .

السند 2 : اهتمت أسماء كذلك بأهم المميزات الطبيعية والفلاحية بالبلاد التونسية وتعرفت على أهم المشاكل والضغوطات التي تعاني منها الفلاحة .  
التعليمة 7 : ألاحظ و أكتب في كل مفتاح معدل التساقطات



التعليمة 8 : أربط بما يناسب

عوامل تاريخية \* توفر مواطن الشغل والمرافق الحياتية  
عوامل طبيعية \* تركيز التحصينات والحضارات  
عوامل اقتصادية \* وفرة السهول وكثرة الأمطار

التعليمة 9 : أصنف المعلومات التالية بالجدول بكتابة الأرقام

- 1 - إنتاج الحبوب في البلاد التونسية في تذبذب من سنة إلى أخرى
- 2 - مردود زراعة الحبوب في الجنوب التونسي هام
- 3 - المساحات المخصصة للغراسات أوفر من مساحة الحبوب

المعلومات الخاطئة	المعلومات الصحيحة
3 - 2	1

التعليمة 10 : تختص بعض الأقاليم في البلاد التونسية بتخصص في المنتج الفلاحي .

أضبط في الخريطة مواقع أهم الغراسات

