

اختبار الثلاثي الثالث المادة: إيقاظ علمي

السنة
الأولى

السند 1

فِي الصَّبَاحِ الْبَاكِرِ تَوَجَّهْتُ رَبَّابَ إِلَى الْحَمَّامِ لِتَغْسِلَ
وَجْهًا وَأَطْرَاقًا بِالمَاءِ وَالصَّبَابُونَ فَوَجَدَتِ المَاءَ
حَارًّا.

التعليمة 1:

1-1 أَحْبَبْتُ بِحَظِّ مَغْلَقِ عُنُقِ الحَاسَةِ الَّتِي اسْتَعْمَلْتُمَا
رَبَّابَ لِتَعْرِيفِ حَرَارَةِ المَاءِ.



معدأ

السند 2

تَعَدَّدَ لِيكَ تَنَاوَلْتُ رَبَّابَ فَطُورِ الصَّبَاحِ.



التعليمة 2:

1-2 أَلَوْنُ عُنُقِ الحَاسَةِ الَّتِي اسْتَعْمَلْتُمَا رَبَّابَ
لِيَذْرُقِ الطَّعَامَ.

2-2 أَسْطُطُ الخَطَأَ:

عَلَى يَمِينِ عَلَى يَسَارِ
عَلْبَةُ النِّيَاعُورِ رَبَّابَ

معدأ

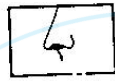
معد3

3 - 2 : اَلْكُتُبُ : اَقْرَبُ - اَبْعَدُ
اَلشَّحَنَةُ مِنْ عُلْبَةِ اَلْيَاغُورِ .

معداب

السند 3
سَرَحَتْ رَبَابٌ شَعْرَهَا وَاخْتَارَتْ عِطْرًا اَعْجَبَهَا
وَتَعَطَّرَتْ .

التعليمة 3 : اَفْعُ عَدَامَةٌ تَحْتَ عَضْرِ اَلْحَاسَةِ اَلَّتِي اخْتَارَتْ
بِهَا رَبَابٌ اَلْعِطْرَ .



معداب

السند 4
حَمَلَتْ رَبَابٌ مَحْفَظَتَهَا بِيَدِهَا اَلْيَمْنَى وَذَهَبَتْ
إِلَى اَلْمَدْرَسَةِ .

التعليمة 4 : اَرْسُمِ مَحْفَظَةَ رَبَابٍ .



معداب

السند 5
وَقَفَتْ رَبَابٌ فِي سَاحَةِ اَلْمَدْرَسَةِ بِجَانِبِ كَرِيْمَةٍ .

التعليمة 5
5 - 1 : اَلْكُتُبُ : اَطْرَلُ - اَقْصُرُ

رَبَابٌ مِنْ كَرِيْمَةٍ



رَبَابٌ



كَرِيْمَةٍ

معداب

مدرب 2 - 5 : ارسم لرة وراء رباب .

المسند 6
رَنَ الْجَرَسُ فَدَخَلَ السَّلَامِيَّةُ إِلَى الْقِسْمِ وَجَلَسَتْ
رَبَابُ يَجَانِبَ خَلِيلِ .



التعليمية 6
6-1 أَلْوَنُ الْأَفْتَةَ الصَّحِيحَةَ .
رَبَابُ عَلَى يَمِينِ عَلَى يَسَارِ خَلِيلِ .


6-2 أَلْكُتُبُ : أَمَامَ - وَرَاءَ .

الْقَلَمُ خَلِيلِ


6-3 أَلْوَنُ يَدَ رَبَابِ الْيَمْنَى

المسند 7 :
عَادَتْ رَبَابُ إِلَى الْمَنْزِلِ فَتَنَاقَلَتْ لَمَجَّةً ثُمَّ أَخَذَتْ
تَلْعَبُ وَتُسَامِدُ شَرِيظًا مِنَ الصُّورِ
التعليمية 7

7-1 أَفْعُ عَلَامَةً تَحْتَ الْمَشْمَدِ الَّذِي يُضْرُّ بِالْحَوَائِثِ



7-2 : أُحِيطُ بِخَطِّ مُغْلَقٍ مُغْلَقٍ الْأَدَوَاتِ الَّتِي لَا تُلْعَبُ بِمَارِتَابٍ .



معاج

7-3 : أَلْوَنُ عَضْوِ الْحَاسَةِ الَّتِي لَا تَسْعِيْلُمَارِتَابٍ عِنْدَ مُشَاهَدَةِ الشَّرِيْطِ .



معاج

جدول إسناد الأعداد

مع 3 التمييز	معايير الحد الأدنى				مستويات التملك
	مع 2 ب	مع 1 ج	مع 1 ب	مع 1 أ	
	0	0	0	0	انعدام التملك
2,5	1,5	1	1,5	1	دون التملك الأدنى + + -
	3	2	3	2	التملك الأدنى + + -
5	4,5	3	4,5	3	التملك الأتمى + + +