

## اختبار الثلاثي الثالث المادة: رياضيات

السنة  
الأولى

السند 1:  
حَانَ وَقْتُ الْعَدَاءِ فَتَجَمَّعَتِ الْعَائِلَةُ حَوْلَ الْمَائِدَةِ:  
التعليمة 1: أَتَأَمَّلُ التَّشْهُدَ:




معدلاً  
بـ

- 1 - 1: أَلْيَمُنُ يَدَ الْأُمِّ الْيَمُنَى .
  - 2 - 1: أَشْطَبُ الْخَطَأَ:
  - 3 - 1: أَرْسُمُ زَهْرَةً وَرَاءَ الْأُمِّ .
- تَجْلِسُ رَائِبَةً عَلَى يَمِينِ عَلَى يَسَارِ حَلِيلِ .

السند 2 :

هَذِهِ الْأَشْيَاءُ الَّتِي وَفَعَتْهَا الْأُمُّ فَوْقَ الْمَائِدَةِ .



7 3 6 5

التعليمة 2 :

1- 2 : أضع علامة في الخانة المناسبة (x)

أقل من العذال	أكثر من العذال	على قدر العذال	
			الصحون
			السمد

مدى

2- 2 : أحيط مجموعة الصحون بخط معلق وأربطها باللائحة المناسبة .

مدى

2- 3 : أكون مجموعة مما هو أقل من الصحون .

مدى

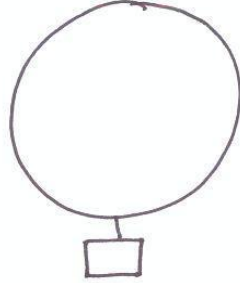


4 - 2 : أَحْبَبْتُ مَجْمُوعَةَ الْغِلَالِ بِحَبِّ مُغْلِقٍ وَارْتَبَطْتُ  
بِاللَّافِتَةِ الْمُنَاسِبَةِ .

معدأ

5 - 2 : أَكُونُ مَجْمُوعَةً مَنَاصِرُهَا عَلَى قَدْرِ الْغِلَالِ .


معدب



6 - 2 : أَحْبَبْتُ مَجْمُوعَةَ الشَّمَكِ بِحَبِّ مُغْلِقٍ وَارْتَبَطْتُ  
بِاللَّافِتَةِ الْمُنَاسِبَةِ .

معدأ

7 - 2 : أَكُونُ مَجْمُوعَةً مَنَاصِرُهَا أَكْثَرُ مِنَ الشَّمَكِ .



معدب

السند 3 :


بَعْدَ تَنَاوُلِ الطَّعَامِ خَرَجْتُ رَانِيَةً إِلَى الْحَدِيقَةِ لِشَتَقُّدِ  
حَيَوَانَاتِهَا .



## التعليمة 3:

- 1 - 3: أرسم خطوطاً مغلقةً أزيينُ بِمَا مَدَيْسَ رَائِيَةً .
- 2 - 3: أرسم خطوطاً مفتوحةً أزيينُ بِهَا الْقِطَّةَ .
- 3 - 3: أحيط الحيوانات بِخَطِّ مُغْلَقٍ .
- 4 - 3: هذه مجموعة الحيوانات التي في الحديقة .  
أصنّفها حسب خاصيةٍ اختارها .

معدل  
معدل



معدل  
معدل

## جدول اسناد الأعداد

معدل 5		معايير الحد الأدنى				مستويات التمثل
		معدل 3	معدل 2	معدل 1	معدل 0	
3	2	0	0	0	0	- - -
		1	1,5	1,5	1	+ - -
		2	3	3	2	+ + -
	5	3	4,5	4,5	3	+ + +